




СКЛАДЕНІ ЗАДАЧІ.

ЗАДАЧІ НА 2 ДІЇ


**Попович Н.С.
м. Київ**

В одній вазі **7 яблук**, а в другій – **на 4 менше**. Скільки яблук було у другій вазі?




- Про що ця задача?
- Розкажіть умову задачі (історію, текст, розповідь).
- Озвучте питання задачі. Про що треба дізнатися?
- Якою дією будемо знаходити? Чому? Яке слово-маячок підказало?
- Який розв'язок задачі?
- Яка відповідь? (Перечитайте питання і дайте відповідь).
- Скільки ми виконали дій, щоб розв'язати задачу? (1 дія . Проста задача)

В одній вазі **7 яблук**, а в другій – **3**. Скільки яблук було у двох вазах?



- Про що ця задача?
- Розкажіть умову задачі (історію, текст, розповідь).
- Озвучте питання задачі. Про що треба дізнатися?
- Якою дією будемо знаходити? Чому? Яке слово-маячок підказало?
- Який розв'язок задачі?
- Яка відповідь? (Перечитайте питання і дайте відповідь).
- Скільки ми виконали дій, щоб розв'язати задачу? (1 дія. Проста задача)

В одній вазі **7 яблук**, а в другій – **на 4 менше**. Скільки всього яблук було **у двох вазах?**



- Про що ця задача?
- Розкажіть умову задачі (історію, текст, розповідь).
- Озвучте питання задачі. Про що треба дізнатися?
- Чи можемо ми однією дією знайти відповідь на питання? Чому?
- То що спочатку треба знайти?
- А зараз можемо дати відповідь на питання?
- Яка відповідь? (Перечитайте питання і дайте відповідь).
- То скільки дій ми виконали? (Дві. 2 простих задачі. Складена задача).

1. $7 - 4 = 3$ (ябл.) – у другій вазі.

2. $7 + 3 = 10$ (ябл.)

Відповідь: 10 яблук всього.

На галявині **літало** 14 метеликів, 4 – **відлетіло** до річки, а **прилетіло** - 7 метеликів. Скільки метеликів **стало** на галявині?



1. $14 - 4 = 10$ (м.) - залишилося.

2. $10 + 7 = 17$ (м.)

Відповідь: 17 метеликів стало.

В автобусі **їхало** 23 пасажери. На першій зупинці **зайшло** ще 2, а на другій - **вийшло** 5. Скільки пасажирів **стало** в автобусі?



1. $23 + 2 = 25$ (п.) – після 1 зупинки.

2. $25 - 5 = 20$ (п.)

Відповідь: 20 пасажирів стало.

Три рибалки спіймали 36 окунів.
Перший спіймав 12, другий – 8.
Скільки окунів спіймав третій
рибалка?



1. $12 + 8 = 20$ (ок.) – перший і другий.

2. $36 - 20 = 16$ (ок.)


Відповідь: 16 окунів спіймав третій
рибалка.

II спосіб: $36 - 12 - 8 = 16$ (ок.)

На клумбі **росло** 17 тюльпанів.
9 – **зрізали**, а **посадили** 5 нових.
Скільки тюльпанів **стало** на клумбі?



В одній коробці **8** олівців, а в другій – **на 5 більше**. Скільки **всього** олівців **у двох** коробках?



У ящику 9 кілограмів слив. Продали 5 кілограмів, а потім досипали у ящик ще 8 кілограмів. Скільки кілограмів слив стало у ящику?

